



# Actividades de aprendizaje



PRIMARIA  
"CREATIVIDAD EN LA EDUCACIÓN"

# Actividades de aprendizaje



Nombre del alumno: \_\_\_\_\_

1er grado Grupo "A"

Maestra Silvia Pérez Sevilla



CICLO ESCOLAR 2019 - 2020


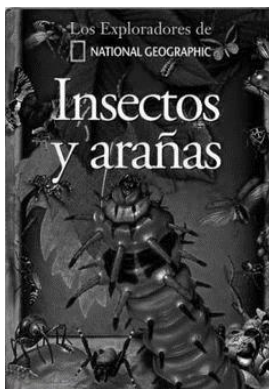




# Actividades de aprendizaje

## ESPAÑOL

I. Observa las portadas de los siguientes libros y realiza lo que te piden.

a) clasifícalos escribiendo el título del libro en el estante que le corresponda.





# Actividades de aprendizaje

Informativos

Instructivos

Literarios

**b) localiza el libro que contiene los elementos de una portada y subraya con el color que te indican:**  
rojo: título  
azul: ilustrador  
verde: autor

**c) responde las siguientes preguntas de acuerdo con las portadas de los libros.**

¿Qué libro consultarías para aprender a preparar un postre?

---

¿Qué libro consultarías para complementar una exposición acerca de los animales?

---

¿Cuál es el libro que elegirías para entretenerte? \_\_\_\_\_



# Actividades de aprendizaje

II. Observa el siguiente cartel y realiza lo que te piden.

a) encierra de verde el título, de rojo los textos breves y de naranja las imágenes.



b) cambia los verbos del cartel a infinitivo.

Usa	
Talla	
Lávalas	
Enjuaga	
Seca	

c) subraya para qué serviría un cartel como el anterior

- para informar sobre el cuidado del agua
- para invitar a la gente a lavarse las manos
- para saber cómo lavarse las manos





# Actividades de aprendizaje

## MATEMÁTICAS

I. Observa las siguientes colecciones y realiza lo que te piden.

a) forma grupos encerrando de 5 en 5



b) responde

Hay \_\_\_\_ grupos de 5 gorras

Hay \_\_\_\_ grupos de 5 pelotas

¿Qué hay más pelotas o gorras? \_\_\_\_\_

c) en la colección donde hay más elementos, tacha los que se necesiten para igualar las dos colecciones.

II. Resuelve el siguiente problema y realiza lo que te piden.

Miguel tenía 57 canicas. Si en un juego perdió 24.

a) ¿Cuántas canicas le quedan?

Operación:

Respuesta:

Le quedan \_\_\_\_\_ canicas.



b) escribe con letra el número del resultado del problema

número	letra

c) escribe el número antecesor y sucesor del resultado del problema

antecesor: \_\_\_\_\_

sucesor: \_\_\_\_\_



# Actividades de aprendizaje

## CONOCIMIENTO DEL MEDIO

I. Observa la siguiente tabla y realiza lo que te piden.

a) escribe los días de la semana que hacen falta

b) tacha los días que no asistes a la escuela

c) escribe el nombre del día que se realiza Honores a la Bandera \_\_\_\_\_

1. Lunes
2.
3. Miércoles
4.
5. Viernes
6. Sábado
7. Domingo



# Actividades de aprendizaje

## EDUCACIÓN SOCIOEMOCIONAL

- Anota una ✓ en la imagen que representa un conflicto.



- Escribe sobre la línea las palabras **mejora**, si el ejemplo sirve para solucionar un conflicto, o **empeora**, si lo hace más difícil.

\* **Escuchar** lo que tienen que decir todas las partes en conflicto. \_\_\_\_\_

\* **Gritar** más fuerte que los demás. \_\_\_\_\_

\* Hacer solo lo que una persona dice aunque no estemos de acuerdo. \_\_\_\_\_

\* Permitir que todos expresen su opinión. \_\_\_\_\_

- Completa las palabras que sirven para resolver conflictos. Usa las letras del recuadro.

u	a	i	a
o	a	e	e

\*Esc\_\_ch\_\_r

\*op\_\_n\_\_r

\*ac\_\_rd\_\_r

\*ent\_\_nd\_\_r