




Actividades de aprendizaje



PRIMARIA
"CREATIVIDAD EN LA EDUCACIÓN"

Actividades de aprendizaje



Nombre del alumno: _____

4to grado Grupo "A"

Maestra Anamaría Yerbes



CICLO ESCOLAR 2019 - 2020



Actividades de aprendizaje

ESPAÑOL

1. Completa la tabla escribiendo el verbo en tiempo pretérito y copretérito.

VERBOS	PASADO	FUTURO
Cantar		
Aprender		
Escribir		
Llegar		
Invitar		
Jugar		
Estudiar		
Salir		
Nadar		
Elaborar		

2. Recuerda algún libro o cuento que hayas leído y elabora una lista de las razones por las cuales te gustó.

Libro / cuento: _____

Razones
- _____
- _____
- _____
- _____
- _____
- _____
- _____
- _____



Actividades de aprendizaje

1. Redacta la recomendación del libro o cuento que mencionaste en el ejercicio anterior y elabora un dibujo.

El libro o cuento _____,

Lo recomiendo porque

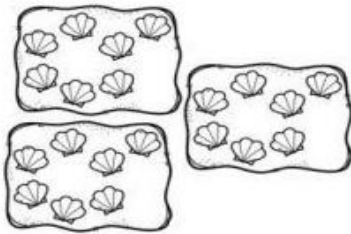


Actividades de aprendizaje

MATEMÁTICAS

1. Responde las preguntas y resuelve las operaciones.

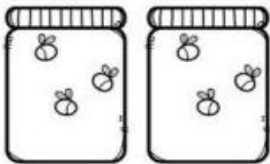
¿Cuántas almejas hay?



$$7 + 7 + 7 = \dots\dots\dots$$

multiplicación $\Rightarrow 3 \times 7 = \dots\dots\dots$


¿Cuántas abejas hay?



$$\dots\dots\dots + \dots\dots\dots = \dots\dots\dots$$

multiplicación $\Rightarrow \dots\dots\dots \times \dots\dots\dots = \dots\dots\dots$


¿Cuántos puntitos hay?



$$\dots\dots\dots + \dots\dots\dots + \dots\dots\dots = \dots\dots\dots$$

multiplicación $\Rightarrow \dots\dots\dots \times \dots\dots\dots = \dots\dots\dots$

¿Cuántos pétalos hay?



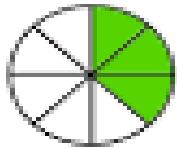
$$\dots\dots\dots + \dots\dots\dots = \dots\dots\dots$$

multiplicación $\Rightarrow \dots\dots\dots \times \dots\dots\dots = \dots\dots\dots$

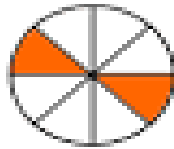


Actividades de aprendizaje


2. Escribe la fracción que representa cada imagen.



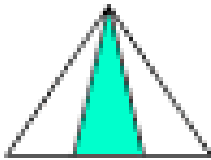
a)




b)




c)



d)



e)




f)

*Experiencias
Españolas*

3. Resuelve los siguientes problemas.

Doña Petra compró las siguientes frutas:



¿Cuántas frutas hay en total?

Hay ___ manzanas, ___ peras y ___ plátanos.

¿Qué fracción del total representa cada tipo de fruta?

Manzanas	Peras	Plátanos
<input type="text"/>	<input type="text"/>	<input type="text"/>

En el salón de cuarto grado "A" hay 28 alumnos, de los cuales 7 están en la Banda de Guerra.



¿Cuántos alumnos **no están** en la Banda de Guerra?

alumnos.

¿Qué **fracción** del grupo no está en la banda de guerra?

parte del grupo.



Actividades de aprendizaje

4. Escribe el nombre de las siguientes cantidades.

1. 45 209 _____

2. 76 218 _____

3. 2 480 _____

4. 37 294 _____

5. 20 445 _____

6. 98 126 _____

7. 82 774 _____

8. 10 622 _____

9. 55 001 _____

10. 9 052 _____



Actividades de aprendizaje

CIENCIAS NATURALES

1. Investiga acerca de la **clasificación de los seres vivos** y posteriormente realiza un organizador gráfico para presentar toda la información más importante. Puedes incluir imágenes.



Actividades de aprendizaje

GEOGRAFÍA

1. Con ayuda de un mapa de la república de México, responde lo siguiente, uniendo las columnas colocando el número dentro del paréntesis.
 2. Estado cuya costa colinda al oeste con el Golfo de California. () Baja California
 3. Estado que colinda al norte con Tabasco. () Guanajuato
 4. Estado que colinda al sur con Michoacán. () Sonora
 5. Estado que colinda al este con el mar Caribe. () Chiapas
 6. Estado que se encuentra al noroeste de la República Mexicana () Quintana Roo
2. En un mapa de la república Mexicana con división política sin nombres, localiza las entidades del ejercicio anterior, siguiendo la simbología.
 - Baja California – Amarillo
 - Tabasco – Naranja
 - Guanajuato – Verde Limón
 - Michoacán – Rojo
 - Sonora – Rosa
 - Chiapas – Morado
 - Quintana Roo - Azul



Actividades de aprendizaje

HISTORIA

1. Realiza 3 organizadores gráficos de las culturas de Mesoamérica que sean de tu preferencia, puedes investigar en cualquier sitio o ayudarte de tu libro de texto de la SEP.

Culturas: Olmeca, Maya, Teotihuacana, Zapoteca, Mixteca, Tolteca y Mexica.



Actividades de aprendizaje

FORMACIÓN CÍVICA Y ÉTICA

1. Investigar acerca de los derechos humanos y realizar una lista de 10 derechos. Puedes agregar imágenes.

DERECHOS HUMANOS	
1.	_____
2.	_____
3.	_____
4.	_____
5.	_____
6.	_____
7.	_____
8.	_____
9.	_____
10.	_____



Actividades de aprendizaje

EDUCACIÓN SOCIOEMOCIONAL

- Lee la situación y haz lo que se te pide.

Lety está en su cuarto, se siente alterada porque al día siguiente presentará una obra de teatro, que estuvo ensayando por varios meses en su escuela, sin embargo, todavía no se aprende bien sus diálogos.

- Colorea las emociones que consideras que siente.

estrés	alegría	miedo	Tristeza
ansiedad	felicidad	tranquilidad	angustia

***Lo que siente Lety se llama estrés.**

- Rodea en la siguiente sopa de letras las reacciones que siente el cuerpo cuando está estresado. Después completa las palabras.

a	z	r	b	i	l	z	T	c	m	b	a	o	x	s
q	w	f	e	l	i	c	l	d	a	d	a	v	b	u
e	y	p	h	n	t	e	M	b	l	o	r	x	t	d
d	o	l	o	r	d	e	E	s	t	ó	m	a	g	o
v	a	e	c	i	m	ñ	J	r	z	m	f	i	p	r
l	a	d	o	l	o	r	D	e	c	a	b	e	z	a
h	z	j	f	g	y	e	J	o	n	r	e	e	o	c
m	a	w	e	a	t	z	t	c	r	e	u	s	y	i
n	c	i	i	n	s	o	m	n	i	o	m	u	w	ó
b	v	a	n	b	f	d	h	y	a	e	a	k	x	n

S _ _ o a _ _ _ _ _ t _ _ _ l _ _ _ _ _ o _ _ _ i _ _ o _ _ _ _ _
 D _ _ _ r _ _ _ c _ _ _ a _ _ _ D _ _ _ _ _ _ _ _ _ ó _ _ _ _ _

- ¿Cuáles de estas sensaciones has experimentado?